

Jehličnaté stromy v lese

Jehličnaté stromy mají listy ve tvaru _____.
K rozmnožování slouží _____, ve kterých jsou
ukryta _____.

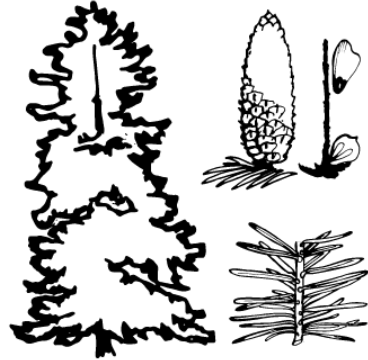


Smrk ztepilý

- je u nás nejrozsířenější
- šišky visí dolů

Jedle bělokorá

- má ploché jehlice
- šišky rostou vzhůru

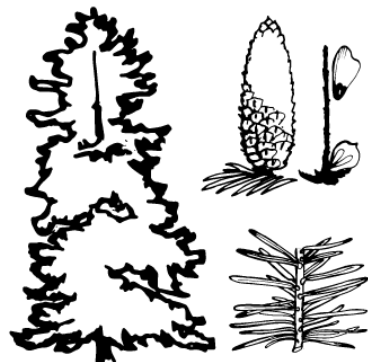


Borovice lesní

- je odolná a přizpůsobivá
- jehlice jsou ve svazcích

Modřín opadavý

- jehlice jsou ve svazcích
- na zimu opadá



Listnaté stromy v lese

Dub letní



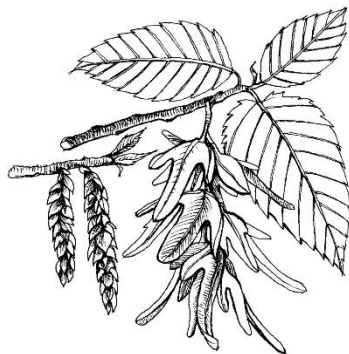
- roste pomalu, žije dlouho
- plody jsou žaludy



Buk lesní

- má světle šedý kmen
- plody jsou bukvice

Habr obecný



Javor mlč



Bříza bělokorá



Jasan stepilý

