

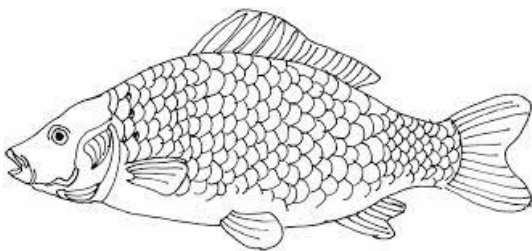
Stojaté vody

Stojaté vody jsou vodní nádrže (_____, _____, _____).

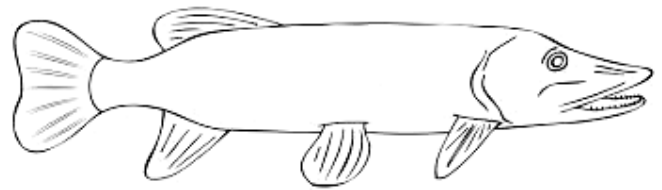
Rostliny stojatých vod - v _____, r _____, a _____, l _____

Živočichové stojatých vod

RYBY

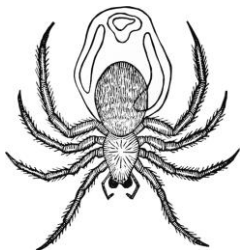


Kapr obecný



Štika obecná

BEZOBRATLÍ




Vodouch stříbřitý

OBOJŽIVELNÍCI




Ižokan zelený

PLAZI




Užovka obojková

PTÁCI



Kachna divoká



Labuť velká

SAVCI



Hryzec vodní